



- 1 Marca en cada recta numérica dónde están los números que se indican.


695




408



571



357



- 2 Colorea en cada caso la centena que está más cerca.

140 → 370 → 430 → 280 →

- 3 Redondea a la centena cada número.

- 4 Redondea los sumandos a la centena y resuelve.

$$387 + 231 = \boxed{} + \boxed{} = \boxed{}$$

$$521 + 187 = \boxed{} + \boxed{} = \boxed{}$$